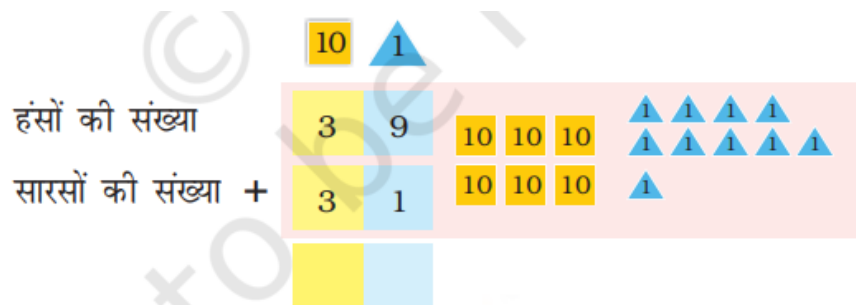


पाठ - 14

आते पक्षी और जाते पक्षी

कितने सारस और हंस है

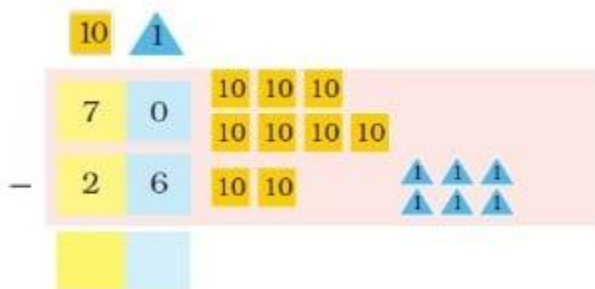
Q1. इसी तरह हम सारस और हंसों की संख्या गिनेंगे।



सारस और हंसों की कुल संख्या _____.

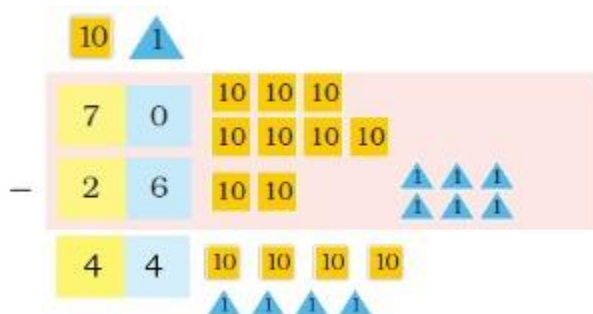
उत्तर : सारस और हंसों की कुल संख्या 70 है

Q2. कितने पक्षी चले गए ?



_____ पक्षी चले गए

उत्तर :



44 पक्षी चले गए

अभ्यास का समय

Q1. एक क्रिकेट मैच में राहुल ने 23 रन और धोनी ने 69 रन बनाए। कुल मिलाकर कितने रन बनाए गए?

	10	▲ 1
	2	3
+	6	9

कुल _____ रन बनाए गए।

उत्तर :

	10	▲ 1
	2	3
+	6	9
	9	2

कुल 92 रन बनाए गए।

Q2. एक मेले में देमा ने 48 शॉल बेचे। अगले दिन उसने 17 शॉल और बेचे। कुल मिलाकर उसने कितने शॉल बेचे?

	10	▲ 1
□		

देमा _____ शॉल बेचे।

उत्तर :

$$\begin{array}{r} 10 \\ 4 \\ + 1 \\ 6 \end{array} \begin{array}{r} 1 \\ 8 \\ 7 \\ 5 \end{array}$$

देमा शॉल बेचे।

Q3. बुन्नु खरगोश एक सप्ताह में 29 गाजर खाता है। उसका दोस्त मुन्नु खरगोश सप्ताह में 42 गाजर खाता है। कौन ज्यादा गाजर खाता है और कितनी?

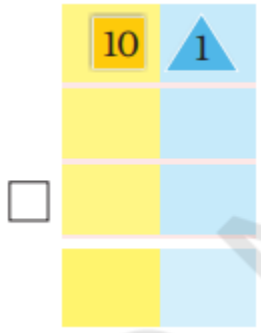
$$\begin{array}{r} 10 \\ \square \\ \square \\ \square \end{array} \begin{array}{r} 1 \\ \square \\ \square \\ \square \end{array}$$

उत्तर :

$$\begin{array}{r} 10 \\ 4 \\ - 2 \\ 1 \end{array} \begin{array}{r} 1 \\ 2 \\ 9 \\ 3 \end{array}$$

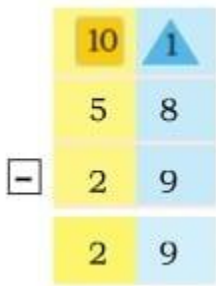
मुन्नु 13 गाजर ज्यादा खाता है

Q4. नेहा 29 साल की है। उसकी माँ 58 साल की है। नेहा की माँ उससे कितनी बड़ी है?



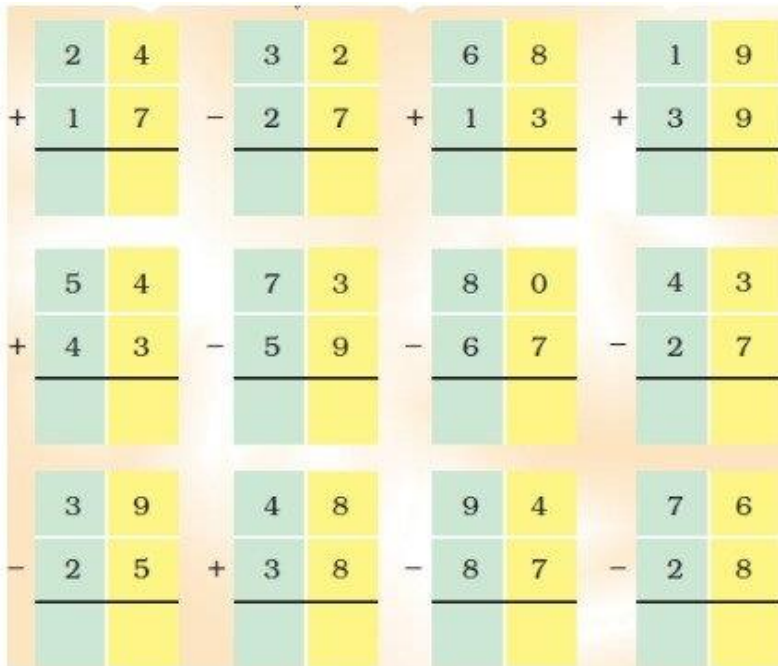
माँ, नेहा से _____ साल बड़ी हैं।

उत्तर :



माँ, नेहा से 29 साल बड़ी हैं।

Q5.



उत्तर :

2	4	3	2	6	8	1	9
+ 1	7	- 2	7	+ 1	3	+ 3	9
4	1	0	5	8	1	5	8
5	4	7	3	8	0	4	3
+ 4	3	- 5	9	- 6	7	- 2	7
9	7	1	4	1	3	1	6
3	9	4	8	9	4	7	6
- 2	5	+ 3	8	- 8	7	- 2	8
1	4	8	6	0	7	4	8

सही बस में बैठो

सही बस में बैठो

हर कार्ड पर हल करके बस का नंबर पता लगाओ। कार्ड को बस के नंबर से मिलाओ और पता लगाओ कौन किस बस में बैठेगा।

कार्ड नं. $\begin{array}{r} 27 \\ + 22 \\ \hline 49 \end{array}$

कार्ड नं. $\begin{array}{r} 48 \\ + 19 \\ \hline \end{array}$

कार्ड नं. $\begin{array}{r} 88 \\ - 21 \\ \hline \end{array}$

कार्ड नं. $\begin{array}{r} 47 \\ + 28 \\ \hline \end{array}$

कार्ड नं. $\begin{array}{r} 93 \\ - 18 \\ \hline \end{array}$

कार्ड नं. $\begin{array}{r} 37 \\ + 12 \\ \hline \end{array}$

कार्ड नं. $\begin{array}{r} 38 \\ + 37 \\ \hline \end{array}$

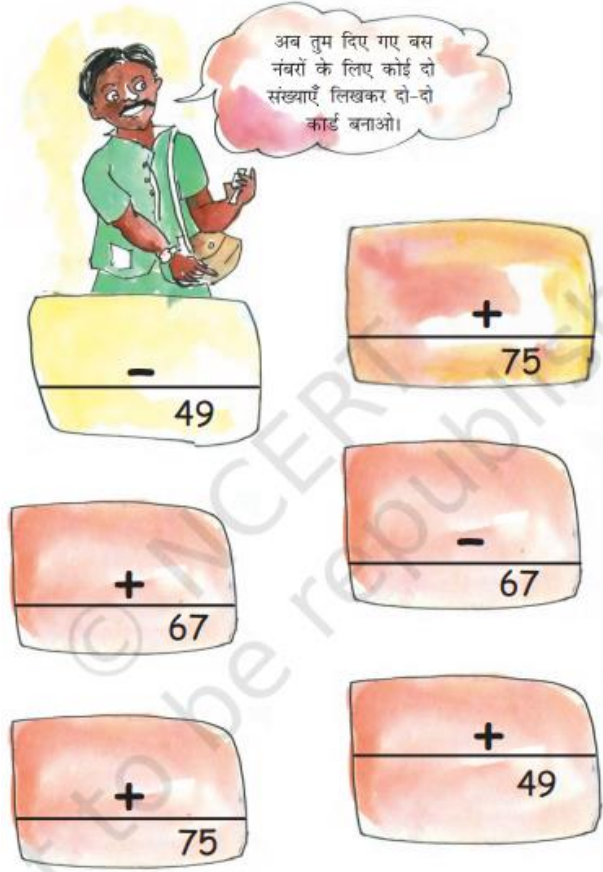
कार्ड नं. $\begin{array}{r} 25 \\ + 24 \\ \hline \end{array}$

कार्ड नं. $\begin{array}{r} 99 \\ - 32 \\ \hline \end{array}$

उत्तर : स्वयं करे

आते पक्षी और जाते पक्षी

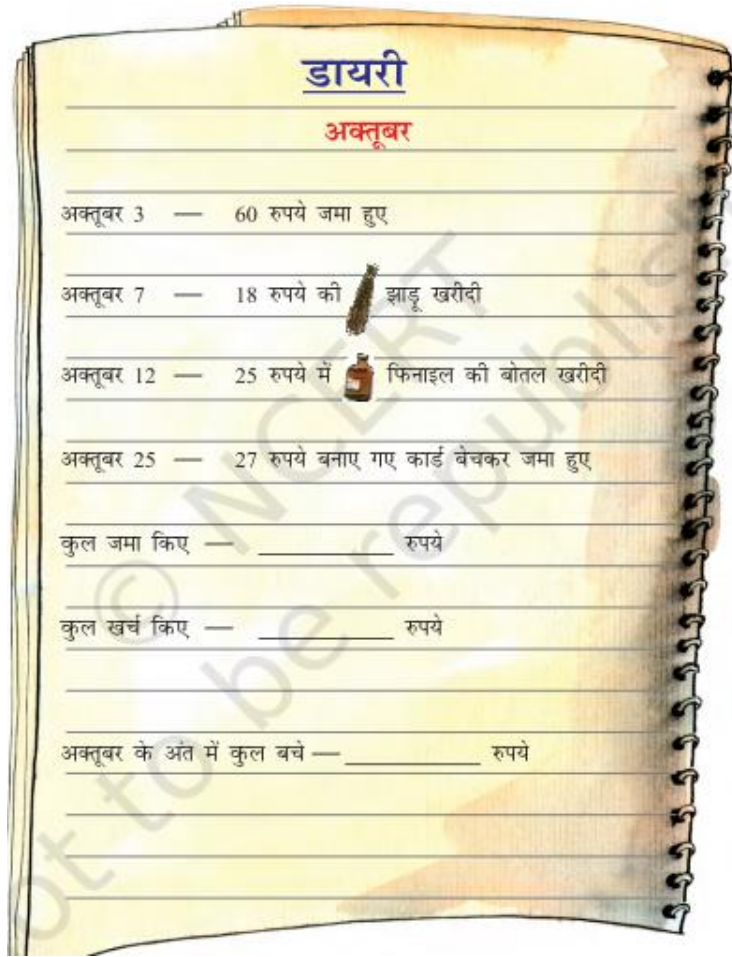
Q1.



उत्तर : स्वयं करे


चकाचक टोली

Q1. श्रेया पैसे जमा करती है और अपनी डायरी में लिखती है। श्रेया की मदद इस बात का पता लगाने में करो कि महीने के अंत में उसके पास कितना पैसा बचा।



उत्तर : स्वयं करे

Q2. चकाचक टोली के बच्चों ने पार्क में पेड़ों की संख्या गिनी।


पेड़	संख्या
	90
	75
	82
	68
	94

❖  पेड़  से ज़्यादा हैं।

ये पेड़ कितने ज़्यादा हैं? _____

❖ उस पेड़ का चित्र बनाओ जिनकी संख्या सबसे कम है।

❖ उस पेड़ का चित्र बनाओ जिसकी संख्या सबसे ज़्यादा है।

❖ बच्चों ने  पेड़ की संख्या 100 करने के लिए कुछ और पेड़ लगाए।
बताओ कि उन्होंने कितने पेड़ और लगाए? _____

उत्तर : (क) स्वयं करे (ख) स्वयं करे (ग) स्वयं करे (घ) स्वयं करे